






Programme de construction n°2 Géogébra

1-		Placer Trois points A, B et C non alignés.
2-		Tracer une droite passant par A et B.
3-		Tracer en rouge la droite perpendiculaire à (AB) passant par C.
4-		Placer D le point d'intersection entre la droite rouge et (AB)
5-		Tracer en vert la parallèle à la droite rouge passant par A.

A- Que peut-on dire de la droite verte et (AB) ?

B- Comment le vérifier avec le logiciel ?