







Triangle équilatéral







	Placer 2 points A et B
	Tracer le triangle équilatéral ABC
	Placer D, milieu de [AB]
	Placer E, milieu de [BC]
	Placer F, milieu de [AC]
	Relier DFE

Qu'observes-tu ?

Recommencer ce plan de construction depuis le triangle DFE.

Colorie les triangles obtenus.

Triangle équilatéral

	Placer 2 points A et B
	Tracer le triangle équilatéral ABC
	Placer D, milieu de [AB]
	Placer E, milieu de [BC]
	Placer F, milieu de [AC]
	Relier DFE

Qu'observes-tu ?

Recommencer ce plan de construction depuis le triangle DFE.

Colorie les triangles obtenus.