













# Cercle(s). v1.

|                                                                                     |                                                                       |
|-------------------------------------------------------------------------------------|-----------------------------------------------------------------------|
|    | Placer 2 points A et B.                                               |
|    | Tracer le cercle de centre A passant par B. Le mettre en rouge.       |
|    | Tracer le cercle de centre B passant par A.                           |
|    | Placer C, D, points à l'intersection de ce cercle et du cercle rouge. |
|    | Tracer le cercle de centre C passant par A.                           |
|    | Placer F à l'intersection de ce cercle et du cercle rouge.            |
|    | Tracer le cercle de centre F passant par A.                           |
|   | Placer F à l'intersection de ce cercle et du cercle rouge.            |
|  | Tracer le cercle de centre F passant par A.                           |
|  | Placer G à l'intersection de ce cercle et du cercle rouge.            |
|  | Tracer le cercle de centre G passant par A.                           |
|  | Tracer le cercle de centre D passant par A.                           |

Que peux-tu dire de la figure inscrite à l'intérieur du cercle rouge ?

|                                                                                     |                           |
|-------------------------------------------------------------------------------------|---------------------------|
|  | Tracer le polygone BCDEFG |
|-------------------------------------------------------------------------------------|---------------------------|

Que peux-tu dire de ce polygone ?