













# Cercle(s)

	Placer 2 points A et B.
	Tracer le cercle de centre A passant par B. Le mettre en rouge.
	Tracer le cercle de centre B passant par A.
	Placer C, D, points à l'intersection de ce cercle et du cercle rouge.
	Tracer le cercle de centre C passant par A.
	Placer F à l'intersection de ce cercle et du cercle rouge.
	Tracer le cercle de centre F passant par A.
	Placer F à l'intersection de ce cercle et du cercle rouge.
	Tracer le cercle de centre F passant par A.
	Placer G à l'intersection de ce cercle et du cercle rouge.
	Tracer le cercle de centre G passant par A.
	Tracer le cercle de centre D passant par A.

Que peux-tu dire de la figure inscrite à l'intérieur du cercle rouge ?